

I. stupeň

Štěřboholy byly do roku 1968 samostatnou obcí na východním okraji hlavního města Prahy s velmi bohatou historií. První zmínka o Štěřboholecích je v listinách jejich majitele – Pražského arcibiskupství. V době, kdy se o Štěřboholecích píše, byl na Pražském arcibiskupství teprve druhý arcibiskup v pořadí. Jeho příjmení je zdobnělinou jednoho lidského orgánu. Na obrázku vpravo jej vidíte v okamžiku, kdy se jako první Čech stal kardinálem¹. Jak se tento druhý pražský arcibiskup a první český kardinál jmenoval?



Zdroj: Internet

.....
Známe tedy jeho jméno. V kterých letech byl pražským arcibiskupem?

Od do

Pražské arcibiskupství bylo prvním známým majitelem Štěřboholecích. První písemná zmínka o Štěřboholecích je z roku, který je přesně uprostřed období, ve kterém výše zmíněný pražský arcibiskup vykonával svůj úřad.

Vypočítej, z kterého roku existuje první písemná zmínka o Štěřboholecích:




Zdroj: Manuscript

Po Arcibiskupství pražském se stalo majitelem Štěřboholecích ještě 14 dalších osob. Z nich nejdéle vlastnil Štěřboholecích starý český rod Dubanských a Žechovců z Duban (mezi lety 1561-1604). Tento rod měl ve své erbu stříbrného beránka na červeném poli. Přikrývadla červeno – stříbrná. V klenotu byla stylizovaná stříbrná lilie.

Štěřboholecích byly k hlavnímu městu Praze připojeny v roce 1968 a staly se Městskou částí Praha-Štěřboholecích. To ještě vlastní znak ani praporek neměly. Ty byly uděleny 22.4.2006 Parlamentem ČR.

Současný znak Městské části Praha-Štěřboholecích odráží bohatou historii obce. Zapiš, co vše v současném znaku městské části vychází z její historie a z jakého důvodu:



Zdroj: MěU Praha Štěřboholecích

popis


historická vazba

1.
2.
3.
4.
5.

- 1a.
- 2a.
- 3a.
- 4a.
- 5a.

Městská část Praha-Štěřboholecích má také svůj praporek. Byl jí udělen Parlamentem ČR. Vpravo je obrys praporu. Vybarvi jej tak, jak si myslíš, že doopravdy vypadá. Popiš, proč právě tato barevná kombinace je podle Tebe na praporek Štěřboholecích:

.....
.....
.....



1 Zdroj https://cs.wikipedia.org/wiki/Jan_O%C4%8Dko_z_Vla%C5%A1imi#/media/File:Archbishop_Jan_Ocko_z_Vlasimi.jpg

II. stupeň/1

Štěrboholy byly do roku 1968 samostatnou obcí na východním okraji hlavního města Prahy s velmi bohatou historií. První zmínka o Štěrboholech je v listinách jejich majitele – Pražského arcibiskupství. V době, kdy se o Štěrboholech píše, byl na Pražském arcibiskupství teprve druhý arcibiskup v pořadí. Jeho příjmení je zdvojnásobením jednoho lidského orgánu. Na obrázku vpravo jej vidíte v okamžiku, kdy se jako první Čech stal kardinálem². Jak se tento druhý pražský arcibiskup a první český kardinál jmenoval a v kterých letech zastával úřad arcibiskupa?



Zdroj: Internet

Vyluštěte hřebenovku a dozvíte se jeho jméno:

1	2	3	4	5	6	7	8	9	10	11	12	13	14	15

Legenda: 1: báseň; 2: oděv sportovní (zn.); 3: kolega Švejka; 4 sféra; 5: křížem; 6: kajuta;
7. pupek; 8: hlavní město Chorvatska; 9: část Prahy; 10: jezero oddělené pobřežím od moře
11: odplata; 12: rostlina; 13: kmen kočovný; 14: nůž dlouhý; 15: divadlo japonské

Pražské arcibiskupství bylo prvním známým majitelem Štěrbohol. První písemná zmínka o Štěrboholech je z roku, který je přesně uprostřed období, ve kterém výše zmíněný pražský arcibiskup vykonával svůj úřad.

Vypočítej následující příklad:

Pokud sečteme rok jmenování výše zmíněné osobnosti do úřadu arcibiskupa a rok její kreace na kardinála, dostaneme číslo 2472. Pokud odečteme rok její kreace na kardinála a rok její jmenování arcibiskupem dostaneme číslo 14. První zmínka o Štěrboholech je z roku, jenž je aritmetickým průměrem těchto dvou letopočtů. Vypočítejte z kterého roku je první písemná zmínka o Štěrboholech.

První písemná zmínka o Štěrboholech je z roku

² Zdroj https://cs.wikipedia.org/wiki/Jan_Ocko_z_Vlasimi

Didaktický list č. 2

Geoškola

Historie – Městská část Praha-Štěřboholy
geosranda „Najdi tambora Praha Štěřboholy 1757“

II. stupeň/2



Dubanský und
Zechovský von
Duban


Po Arcibiskupství pražském se stalo majitelem Štěřboholy ještě 14 dalších osob. Z nich nejdéle vlastnil Štěřboholy starý český rod Dubanských a Zechovců z Duban (mezi lety 1561-1604). Tento rod měl ve své erbu stříbrného beránka na červeném poli. Přikrývadla červeno – stříbrná. V klenotu byla stylizovaná stříbrná lilie.

Štěřboholy byly k hlavnímu městu Praze připojeny v roce 1968 a staly se Městskou částí Praha-Štěřboholy. To ještě vlastní znak ani prapor neměly. Ty byly uděleny 22.4.2006 Parlamentem ČR.

Současný znak Městské části Praha-Štěřboholy odráží bohatou historii obce. Zapiš, co vše v současném znaku městské části vychází z její his-

rie a z jakého důvodu:

Zdroj: Manuskript



Zdroj: MěU Praha Štěřboholy


popis

historická vazba

1.
2.
3.
4.
5.

- 1a.
- 2a.
- 3a.
- 4a.
- 5a.

Městská část Praha-Štěřboholy má také svůj prapor. Byl jí udělen Parlamentem ČR. Níže je obrys praporu. Vybarvi jej tak, jak si myslíš, že doopravdy vypadá.



Popiš, proč právě tato barevná kombinace je podle Tebe na praporu Štěřboholy:

.....
.....
.....

Didaktický list č. 2
Geoškola
Historie – Městská část Praha-Štěrboholy
geosranda „Najdi tambora Praha Štěrboholy 1757“

SŠ/1

Štěrboholy byly do roku 1968 samostatnou obcí na východním okraji hlavního města Prahy s velmi bohatou historií. První zmínka o Štěrboholecích je v listinách jejich majitele – Pražského arcibiskupství. V době, kdy se o Štěrboholecích píše, byl na Pražském arcibiskupství teprve druhý arcibiskup v pořadí. Jeho příjmení je zdrobnělinou jednoho lidského orgánu. Na obrázku vpravo jej vidíte v okamžiku, kdy se jako první Čech stal kardinálem³. Jak se tento druhý pražský arcibiskup a první český kardinál jmenoval a v kterých letech zastával úřad arcibiskupa?



Zdroj: Internet

Vyluštěte hřebenovku a dozvíte se jeho jméno:

1	2	3	4	5	6	7	8	9	10	11	12	13	14	15

- Legenda: 1: báseň; 2: oděv sportovní (zn.); 3: kolega Švejka; 4 sféra; 5: křížem; 6: kajuta;
7. pupek; 8: hlavní město Chorvatska; 9: část Prahy; 10: jezero oddělené pobřežím od moře
11: odplata; 12: rostlina; 13: kmen kočovný; 14: nůž dlouhý; 15: divadlo japonské

Pražské arcibiskupství bylo prvním známým majitelem Štěrbohol. První písemná zmínka o Štěrboholecích je z roku, který je přesně uprostřed období, ve kterém výše zmíněný pražský arcibiskup vykonával svůj úřad.

Vypočítej následující příklad:

Pokud sečteme rok jmenování výše zmíněné osobnosti do úřadu arcibiskupa a rok její kreace na kardinála, dostaneme číslo 2472. Pokud odečteme rok její kreace na kardinála a rok její jmenování arcibiskupem dostaneme číslo 14. První zmínka o Štěrboholecích je z roku, jenž je aritmetickým průměrem těchto dvou letopočtů. Vypočítejte z kterého roku je první písemná zmínka o Štěrboholecích.

První písemná zmínka o Štěrboholecích je z roku

3 Zdroj https://cs.wikipedia.org/wiki/Jan_O%C4%8Dko_z_Vla%C5%A1imi#/media/File:Archbishop_Jan_Ocko_z_Vlasimi.jpg

Didaktický list č. 2
 Geoškola
 Historie – Městská část Praha-Štěrboholy
 geosranda „Najdi tambora Praha Štěrboholy 1757“

SŠ/2




Dubanský und Zechovský von Duban
 Zdroj: Manuskript

Po Arcibiskupství pražském se stalo majitelem Štěrbohol ještě 14 dalších osob. Z nich nejdéle vlastnil Štěrboholy starý český rod Dubanských a Zechovců z Duban (mezi lety 1561-1604). Tento rod měl ve své erbu stříbrného beránka na červeném poli. Přikrývadla červeno – stříbrná. V klenotu byla stylizovaná stříbrná lilie.

Štěrboholy byly k hlavnímu městu Praze připojeny v roce 1968 a staly se Městskou částí Praha-Štěrboholy. To ještě vlastní znak ani prapor neměly. Ty byly uděleny 22.4.2006 Parlamentem ČR.

Současný znak Městské části Praha-Štěrboholy odráží bohatou historii obce. Zapiš, co vše v současném znaku městské části vychází z její historie a z jakého důvodu:



Zdroj: MěU Praha Štěrboholy

rie a z jakého důvodu:

popis	historická vazba
1.	1a.
2.	2a.
3.	3a.
4.	4a.
5.	5a.

Znaky – erby se zabývá pomocná věda historická. Která se jmenuje heraldika (z latinského *heraldus* – herold) Zabývá se studiem souhrnu pravidel a zvyklostí, podle nichž se znak vytvoří, popisují, určují a kreslí.

Blason (z francouzského „blason“ znamenající erb, znak, ale i heraldika; občas se používá **blazon**) je v heraldice formální slovní popis znaku (erbu), který může být použit také pro popis vlajek, pečeti atd. Blason má být stručný a výstižný, zároveň však dostatečně jednoznačný, aby podle něj bylo možné znak nakreslit. Při popisu se v rámci zjednodušování nepoužívají (nebo jen výjimečně používají) slovesa.

Vyhledej na Internetu základní pravidla pro popisování znaků a erbů a zapiš je :

.....

.....

.....

.....

V heraldice se používají tzv. Tinkury. Co to je?

Kolik je skupin tinktur? Kolik rozeznáváme tinktur celkem (ze všech skupin)?.....

Co platí v heraldice jako pravidlo ve vztahu k tinkturám?

Didaktický list č. 2
Geoškola
Historie – Městská část Praha-Štěřboholy
geosranda „Najdi tambora Praha Štěřboholy 1757“

SŠ/3

Štěřboholy také mají blason svého znaku:

„ Polcený štít, jehož pravá polovina je dělená. V jejím horním modrém poli jsou dva zkřížené stříbrné meče se zlatou rukojetí. V dolním červeném poli je stojící Stříbrný beran bez rohů se zlatou zbrojí hledící doprava. V levé červené polovině štítu je zlatá kvádrová zed' se stříbrným cimbuřím o čtyřech stínkách, z nichž dvě jsou viditelné celé, dvě z poloviny. Zed' je u poltící linie prolomena polovinou černé brány se stříbrnou klenbou a z poloviny viditelným zlatým středovým klenákem. Brána má otevřená dřevěná vrata se zlatými panty a vytaženou zlatou mříž. Z brány vyniká obrněná paže držící stříbrný meč se zlatou rukojetí. Za zdí vynikají dvě zlaté kvádrové věže s cimbuřím, zlatou střechou a zlatou makovicí. Pravá věž, viditelná pouze z poloviny, je vyšší a širší, je prolomena polovinou černého trojdílného okna ve stříbrném rámu. Je zakončena zlatým cimbuřím, nad které vyniká polovina valbové střechy s jednou makovicí. Levá, nižší a užší věž, má jedno černé dvojdílné okno ve stříbrném rámu, je zakončena zlatým cimbuřím o třech stínkách a stanovou střechou s makovicí.“

Přečti si pozorně blason znaku městské části Praha-Štěřboholy a pokus se odpovědět na následující otázky:

1. Co znamená modrá barva horního pole v pravé polovině štítu? K čemu se váže?.....
2. Co znamenají zkřížené meče? Co vyjadřují a kdy se tato událost stala(datum)?.....
3. K čemu se váže beran v dolním poli? Odkud je převzatý?
4. Proč je dolní pole červené?
5. Je beran ve znaku Štěřboholy bílý nebo stříbrný?